




Thema: Die römischen Zahlen

F a c h: Mathematik

Klasse: 4 und 5



I	V	X	L	C	D	M
1	5	10	50	100	500	1000

Die römischen Ziffern bis 12:




1	4	7	10
2	5	8	11
3	6	9	12

Die römischen Ziffern bis 12:



1	4	7	10
2	5	8	11
3	6	9	12

Die römischen Ziffern bis 12:



1	4	7	10
2	5	8	11
3	6	9	12

Die römischen Ziffern bis 24:

13	16	19	22
14	17	20	23
15	18	21	24



## Die römischen Zahlen

I	V	X	L	C	D	M
1	5	10	50	100	500	1000



## Die römischen Zahlen

I	V	X	L	C	D	M
1	5	10	50	100	500	1000



# Die römischen Zahlen

I	V	X	L	C	D	M
1	5	10	50	100	500	1000

CCLXVII	267
CLXXXVIII	188
DCLXXVI	676
DCCCLXVIII	868
DCCXXXVI	736
DCCLXXXV	785
MDCCLXVIII	1768
MDCCLXXXVI	1886
MCCLXXIII	1273
MDCCCXXXVI	1836
MDCLXXI	1681
MDCCLXV	1765
MMDCCCXVIII	2818
MMDCCLVII	2757
MMDCLXXXVIII	2688
MMMDCCLXVII	3767

783	DCCLXXIII
867	DCCCLXVII
1356	MCCCLVI
1678	MDCLXXVIII
2586	MMDLXXXVI



# Die römischen Zahlen

I	V	X	L	C	D	M
1	5	10	50	100	500	1000

CCLXVII	
CLXXXVIII	
DCLXXVI	
DCCCLXVIII	
DCCXXXVI	
DCCLXXXV	
MDCCLXVIII	
MDCCLXXXVI	
MCCLXXIII	
MDCCCXXXVI	
MDCLXXI	
MDCCLXV	
MMDCCCXVIII	
MMDCCLVII	
MMDCCLXXXVIII	
MMMDCCLXVII	

783	
867	
1356	
1678	
2586	



# Die römischen Zahlen

I	V	X	L	C	D	M
1	5	10	50	100	500	1000

CCCLXXXIV	384
CCCLXXIX	379
CCXLVIII	248
DCCXCVII	797
DCCXLIV	744
MDCXCVIII	1697
MDCCLXXVIII	1848
MDCCLXXIX	1779
MDCCLXIII	1843
MCDXXXVIII	1438
MCDXLVII	1447
MCMLXXVIII	1978
MCMLXXXIV	1984
MCMLXVII	1947
MCMLXXIX	1979
MMCDXLIV	2444

1734	MDCCLXXXIV
1348	MCCCXLVIII
1467	MCDLXVII
1889	MDCCLXXIX
1984	MCMLXXXIV



# Die römischen Zahlen

I	V	X	L	C	D	M
1	5	10	50	100	500	1000

	3 8 4
	3 7 9
	2 4 8
	7 9 7
	7 4 4
	1 6 9 7
	1 8 4 8
	1 7 7 9
	1 8 4 3
	1 4 3 8
	1 4 4 7
	1 9 7 8
	1 9 8 4
	1 9 4 7
	1 9 7 9
	2 4 4 4

	M D C C X X X I V
	M C C C X L V I I I
	M C D L X V I I
	M D C C C L X X X I X
	M C M L X X X I V



I

II

III

IV

V

VI

VII

VIII

IX

X

XI

XII

XIII

XIV

XV

XVI

XVII

XVIII

XIX

XX

XXI

XXII

XXIII

XXIV

XXV

1

2

3

4

5

6

7

8

9

10

11

12

13

14

15

16

17

18

19

20

21


22

23

24


25

## Berühmte Gebäude



Gebäude	Jahr der Fertigstellung
Eiffelturm in Paris	MDCCCLXXXIX =
Triumpfbogen in Paris	MDCCCXXXVI =
Brandenburger Tor in Berlin	MDCCXCI =
Tower Bridge in London	MDCCCXCIV =
Schiefer Turm in Pisa	MCCCLXXII =

## Berühmte Gebäude



Gebäude	Jahr der Fertigstellung
Eiffelturm in Paris	MDCCCLXXXIX =
Triumpfbogen in Paris	MDCCCXXXVI =
Brandenburger Tor in Berlin	MDCCXCI =
Tower Bridge in London	MDCCCXCIV =
Schiefer Turm in Pisa	MCCCLXXII =

Grabinschrift auf einem Friedhof:

**Hier ruht Johann Meyer**

**geboren:** MDCCCXLVIII  
**verheiratet:** MDCCCLXXIV  
**gestorben:** MCMXXIX

— — — —  
— — — —  
— — — —

Die Tafelinschrift an einem Haus:

**Erbaut:** MDCCCXLVII  
**Abgebrannt:** MDCCCXCVIII  
**Wiederaufbau:** MCMIV  
**Renovierung:** MCMLXXIX

— — — —  
— — — —  
— — — —  
— — — —

Grabinschrift auf einem Friedhof:

Hier ruht Johann Meyer

geboren: MDCCCXLVIII  
verheiratet: MDCCCLXXIV  
gestorben: MCMXXIX

— — — —  
— — — —  
— — — —

Die Tafelinschrift an einem Haus:

Erbaut: MDCCCXLVII  
Abgebrannt: MDCCCXCVIII  
Wiederaufbau: MCMIV  
Renovierung: MCMLXXIX

— — — —  
— — — —  
— — — —  
— — — —

# Römische Zahlen

Schreibe die wichtigsten römischen Stufenzahlen. Mit dieser Tabelle kannst du dann jede Zahl bilden:

1000 _____	100 _____	10 _____	1 _____
2000 _____	200 _____	20 _____	2 _____
3000 _____	300 _____	30 _____	3 _____
	400 _____	40 _____	4 _____
	500 _____	50 _____	5 _____
	600 _____	60 _____	6 _____
	700 _____	70 _____	7 _____
	800 _____	80 _____	8 _____
	900 _____	90 _____	9 _____

Schreibe die Zahlen im Zehnersystem:

MLI → <input type="text"/>	XXIV → <input type="text"/>	CCIX → <input type="text"/>
MXL → <input type="text"/>	MCCCLVIII → <input type="text"/>	DI → <input type="text"/>

Schreibe die Zahlen mit römischen Zahlzeichen:

217 → <input type="text"/>	35 → <input type="text"/>	48 → <input type="text"/>
49 → <input type="text"/>	312 → <input type="text"/>	3529 → <input type="text"/>

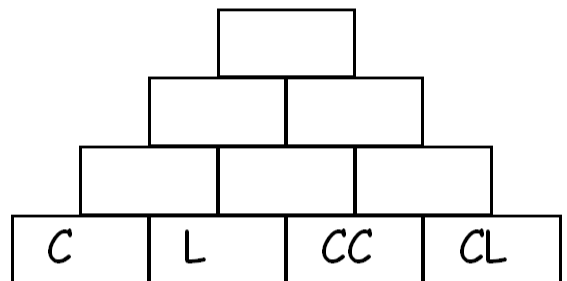
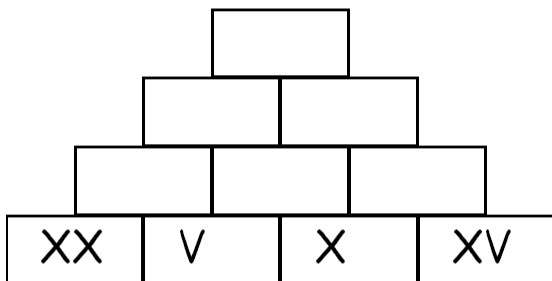
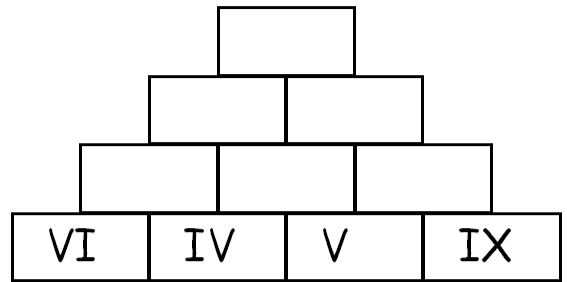
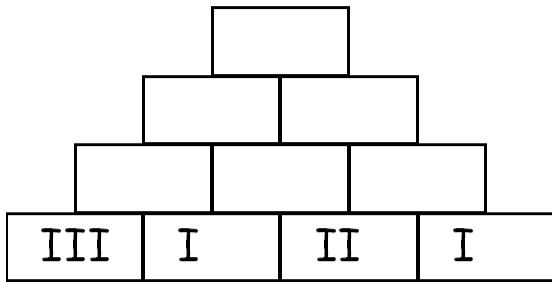
Schreibe die um 1 kleinere Zahl mit römischen Zahlzeichen:

LIX $\xrightarrow{-1}$ <input type="text"/>	IC $\xrightarrow{-1}$ <input type="text"/>	DC $\xrightarrow{-1}$ <input type="text"/>
CCCXXIV $\xrightarrow{-1}$ <input type="text"/>	MMDCCC $\xrightarrow{-1}$ <input type="text"/>	MMVII $\xrightarrow{-1}$ <input type="text"/>

Schreibe die um 1 größere Zahl mit römischen Zahlzeichen:

CIV $\xrightarrow{+1}$ <input type="text"/>	MDXIV $\xrightarrow{+1}$ <input type="text"/>	XLIV $\xrightarrow{+1}$ <input type="text"/>
CMXL $\xrightarrow{+1}$ <input type="text"/>	CCCIII $\xrightarrow{+1}$ <input type="text"/>	CXXVIII $\xrightarrow{+1}$ <input type="text"/>

# Römische Zahlen



+	IV	IX	III
IX			
VI			
IV			
VII			

+	L	LX	XL
C			
D			
CL			
CD			

-	VII	V	IV
VII			
XV			
IX			
XII			

-	IX	XV	VII
LV			
VL			
XL			
LXV			

# Römische Zahlen

